

Nombre _____ Fecha _____

1 Expresa en la unidad que se indica.

En centímetros

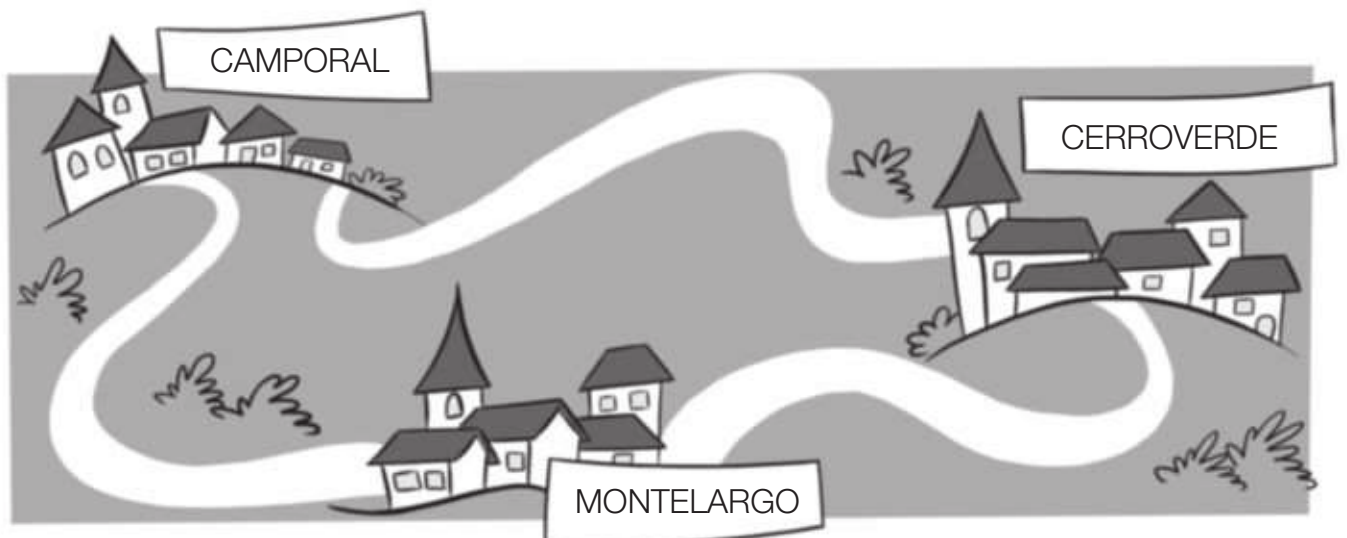
- 3 m, 5 dm y 8 cm
- 5 m, 7 dm y 9 cm

En metros

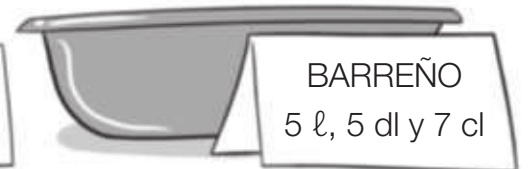
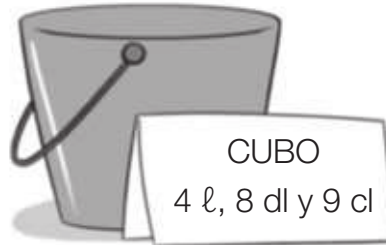
- 1 km, 2 hm y 4 dam
- 2 km, 4 hm y 9 dam

2 Calcula las distancias en metros y completa el esquema.

- La distancia de Camporal a Cerroverde es de 8 km, 7 hm y 8 dam.
- La distancia de Cerroverde a Montelargo es de 5 km, 6 hm y 7 dam.
- La distancia de Montelargo a Camporal es de 9 km, 8 hm y 6 dam.



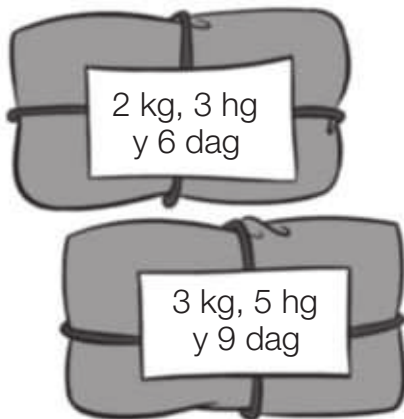
Nombre _____ Fecha _____

1 ¿Cuál es la capacidad de cada recipiente en centilitros? Calcula y completa.

OLLA ►

CUBO ►

BARREÑO ►

2 Observa el dibujo y calcula.

- ¿Cuántos gramos pesa cada paquete?
- ¿Cuántos gramos en total pesan los dos paquetes?
¿Cuántos kilos y gramos son?

3 Resuelve.

En el camión de Gustavo se puede cargar un máximo de 3 toneladas. ¿Podrá cargar 125 paquetes de 45 kg cada uno? ¿Por qué?

